

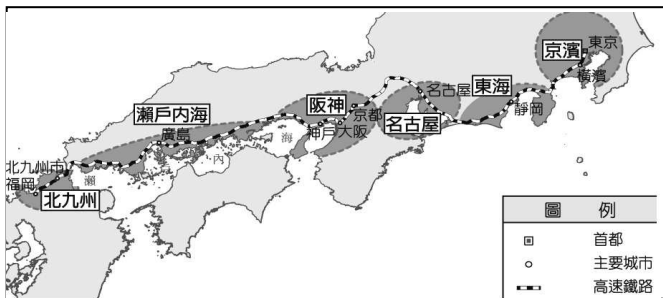
- () 1.朝鮮半島位於海陸的交會地帶，下列關於該區的地形分布特色，何者 錯誤？
(A)南部為高原地形 (B)山地面積廣大
(C)東部有太白山脈 (D)西部沿海為平原地形

- () 2.小堯看了紀錄片《灣生回家》，「灣生」是指日治時期在臺灣出生的日本人，他們在日本戰敗投降後返回日本。這些灣生若從花蓮港搭船北返日本，船隻在下列哪一股洋流引領下很快就可抵達目的地？
(A)親潮 (B)黑潮
(C)親潮支流 (D)中國沿岸流

- () 3.小俊暑假想到日本東京迪士尼樂園遊玩，他想先在旅遊網站找尋相關的旅遊資料，應該搜尋亞洲哪一個地區？ (A)東北亞 (B)東南亞 (C)東亞 (D)北亞

- () 4.日本工業區多分布於沿海地區，這受到下列哪些因素的影響最大？(甲)缺乏原料(乙)技術進步(丙)出口為主(丁)勞力不足
(A)甲乙 (B)甲丙 (C)甲丁 (D)丙丁

- () 5.日本境內的工業活動相當發達，附圖為該國主要的工業區分布圖。請根據圖中資料加以判斷，其工業區主要分布於哪兩個大島上？
(A)北海道、本州 (B)本州、四國
(C)四國、九州 (D)本州、九州

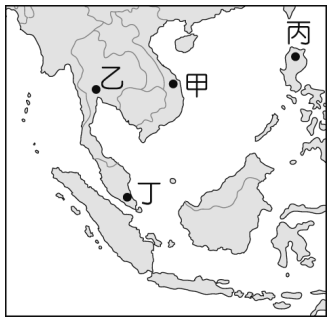


- () 6.南韓近年來的經濟實力相當強大，尤其三星企業即在哪一個方面極具競爭力，產品行銷世界各國，賺取了大量外匯？
(A)汽車 (B)化學 (C)電子 (D)造船

- () 7.附圖是某種食品的標章，何種信仰的人以食用此種標章的食物為主？
(A)佛教 (B)印度教
(C)基督教 (D)伊斯蘭教



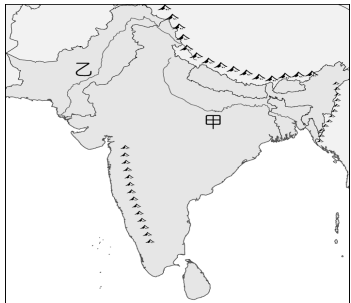
- () 8.台灣政府在 2016 年推動「新南向政策」，擴大與東南亞國協、南亞等國的經貿、產業等往來，希望為台灣的經濟開創新局面。附圖中東南亞的哪一個國家，由於風俗習慣和台灣較為接近，派遣員工的適應情況良好，早已成為台商投資的重鎮？ (A)甲 (B)乙 (C)丙 (D)丁



- () 9.東南亞曾受到西方列強的殖民統治，至今殖民歷史仍然影響當地發展。下列哪項東南亞特色與殖民歷史最 無關？
(A)大量人民到海外提供勞務
(B)大都市多為鄰近港口的港埠型都市
(C)具有天主教信仰及英語等文化
(D)發展大規模的熱帶栽培業，種油棕、橡膠

- () 10.印度寶萊塢電影「救救菜英文」在台灣票房賣座挺好，從電影中可以看到印度當地因為通行英文，因此促成了何種產業活動的發展？
(A)汽車工業 (B)紡織工業
(C)軟體工業 (D)石化工業

- () 11.附圖為印度北部的主要河川分布位置，附表有關甲、乙兩條河川的比較，何者最正確？




	(A)雨量	(B)氣候	(C)糧食作物	(D)地形
甲河川	少	季風氣候	小麥	高山
乙河川	多	乾燥氣候	稻米	平原

- () 12.印度一向被視為一個封閉又神祕的國度，因此境內豐富的文化景觀吸引了許多遊客的探訪。在下列何時前往當地，正好遇上氣溫最高的時刻，要特別注意避免中暑的情況發生？
(A)春節 (B)清明節 (C)中秋節 (D)聖誕節

- () 13.蘇伊士運河是世界上最繁忙的水道之一，每日往來的船隻不勝計數。該水道連接哪兩個海洋？
(A)紅海、地中海 (B)波斯灣、地中海
(C)紅海、印度洋 (D)東海、南海

- ()14.西亞地區大部分覆蓋著炎熱乾燥的沙漠或礫漠，這些地區多半因為缺乏飲用水或灌溉用水而無人居住，呈現一片荒涼。造成西亞普遍乾燥的主要原因為何？
- (A)距海較遙遠 (B)副熱帶高氣壓籠罩
(C)洋流經過時造成無風 (D)因緯度低，對流旺盛

- ()15.附圖為西亞某國在農業發展上採用的滴灌技術示意圖。此技術除了可節省水源外，更可避免下列哪項環境問題？



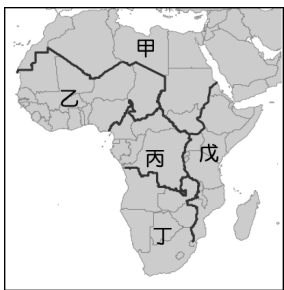
- (A)土石流 (B)河水汙染 (C)地層下陷 (D)土壤鹽鹼化

- ()16.西亞和北非屬於不同的大洲，卻在自然與人文環境方面有許多相似之處，但「不」包括附表中的哪一項？ (A)甲 (B)乙 (C)丙 (D)丁

項目	共同地理特點
甲	地形以高原為主體
乙	大部分為乾燥氣候
丙	早期多以游牧為生
丁	屬於伊斯蘭文化區

- ()17.西亞地區也有一隻古老的游牧民族，人口將近兩千萬人，但該族生存的土地早已被其他民族建立起的國界給分割破碎，使得這兩千萬人口的大族變成散居各國的「少數族群」，生存空間受到嚴重壓迫。上述文中提到的民族應為下列何者？
- (A)貝都因人 (B)波斯人 (C)猶太人 (D)庫德族

- ()18.非洲土地幅員廣闊，依地理位置畫分成五大區域，如附圖所示。圖中哪一區域居民以阿拉伯人為主，普遍講阿拉伯語，屬於伊斯蘭文化區的一部分？ (A)甲 (B)乙 (C)丙 (D)丁



- ()19. 1960 年代，以西亞為主的國家為了經濟與政治目的聯手起來抗衡歐美大型企業，成立了一個跨國的聯盟，此聯盟成員多位於西亞~北非一帶，並掌握了全球大部分的能源產出。該組織的符號應是下列何者？
- (A) (B) (C) (D)



- ()20.自 1970 年代起，杜拜即進行多元化的建設與發展，包含觀光業、金融業、國際貿易轉運站，以吸引來自全球的資金、勞工與觀光客。促使杜拜進行多元化的建設與發展的主要原因為何？
- (A)降低對單一礦產資源的依賴
(B)勞力成本提升，促使產業升級
(C)國家基礎建設不足，經濟發展受限
(D)國內族群複雜多元，社會動盪不安

解答

1	2	3	4	5	6	7	8	9	10
A	B	A	B	D	C	D	A	A	C
11	12	13	14	15	16	17	18	19	20
B	B	A	B	D	A	D	A	C	A